

AP1G_2022_Mathematik fixierend

Mathematik Teil 2 – fixierendes Kopfrechnen

max. Punkte: 39

Dauer: 30 Minuten

Vorbemerkungen und Anweisungen

- Die Prüfung darf erst nach Freigabe der Aufsichtsperson aufgeklappt werden.
- Als Schreibzeug darf **nur der zur Verfügung gestellte Kugelschreiber** verwendet werden.
- Es darf **kein Notizpapier** verwendet werden.
- Die Resultate sind in die vorbereiteten Kästchen zu schreiben.
- Zwischenergebnisse dürfen **nicht** notiert werden.
- Falsche Ergebnisse dürfen mit einem **waagrechten Strich** pro Prüfungsaufgabe **höchstens einmal** durchgestrichen werden. **Das falsche Ergebnis darf kein Zwischenergebnis sein.** Das korrekte Ergebnis muss daneben oder darunter geschrieben werden.
Zum Beispiel: $23 \cdot 40 =$

falsche Korrektur:

820 920

richtige Korrektur:

820 920

- Auf dem Tisch dürfen sich nur die Prüfungsaufgaben und der zur Verfügung gestellte Kugelschreiber befinden. **Uhren**, Mobiltelefone und sonstige elektronische Geräte sind **auszuschalten und vom Pult zu entfernen**.
- Die Verwendung des Taschenrechners und anderer Hilfsmittel ist nicht erlaubt.
- Ein Verstoss gegen oben genannte Regelungen kann den Ausschluss von der Prüfung zur Folge haben.
- Brüche sind vollständig zu **kürzen**.

Unterschrift Prüfungskandidat/in:

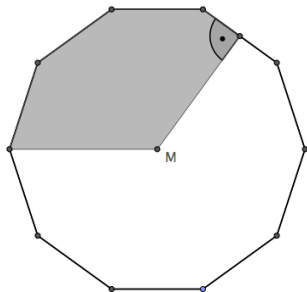
Ort / Datum:

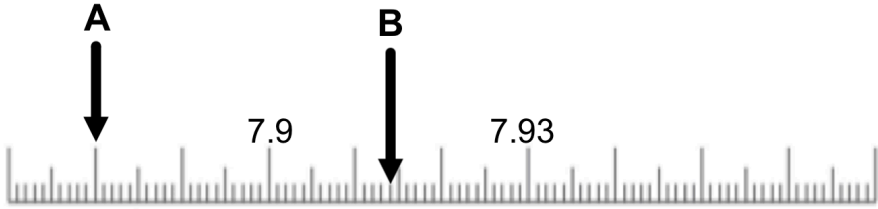
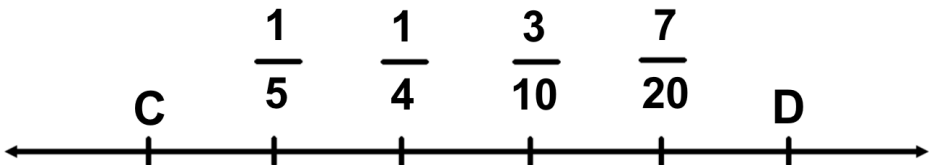


Auszufüllen durch die korrigierenden Lehrpersonen


Korrektur	Datum:	Initialen:	erreichte Punkte:

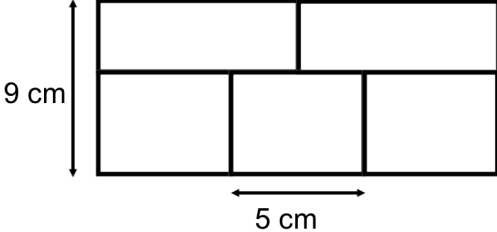


















Kontrolle	Datum:	Initialen:	erreichte Punkte:

Nachkorrektur	Datum:	Initialen:	erreichte Punkte:

<p>1) 1P</p>	<p>Ordne die Zahlen und Brüche nach ihrer Grösse. Beginne mit dem kleinsten Wert. Schreibe nur die <u>zu den Werten</u> gehörenden Buchstaben in der <u>richtigen Reihenfolge</u> ins Lösungsfeld.</p> <p>A $\frac{1}{3}$ B 0.125 C $\frac{25}{49}$ D 0.25 </p>	
<p>2) 1P</p>	<p>Fahrzeit: 18 min Durchschnittliche Geschwindigkeit: 50 km/h Wie gross ist die zurückgelegte Strecke?</p>	
<p>3) 4P</p>	<p>Rechne aus:</p> <p>a) $76'060 + 122'983$ b) $370.1 - 8.45$ c) $25 \cdot 14'000$ d) $0.852 : 6$</p>	<p>a) _____ b) _____ c) _____ d) _____</p>
<p>4) 1P</p>	<p>Rechne in die angegebene Masseinheit um: $4200 \text{ cm}^2 = ? \text{ dm}^2$</p>	
<p>5) 1P</p>	<p>Rechne in die angegebene Masseinheit um: $54 \text{ dm}^3 = ? \text{ l}$</p>	
<p>6) 2P</p>	<p>Welchem Anteil entspricht der eingefärbte Teil im regelmässigen Zehneck? Schreibe als <u>gekürzten Bruch</u> und als Dezimalzahl.</p>	<p>Bruch: Dezimalzahl:</p>
		
<p>7) 1P</p>	<p>Berechne den Anteil: $\frac{5}{12}$ von 14.4</p>	
<p>8) 1P 1P</p>	<p>Rechne aus:</p> <p>a) $31'110 - 9999 - 999 - 99 - 9$ b) $5 d : \frac{1}{4} d$</p>	<p>a) _____ b) _____</p>
<p>9) 1P</p>	<p>Ergänze den fehlenden Zähler so, dass die Gleichung korrekt ist.</p> $\frac{8}{12} = \frac{\blacksquare}{15}$	
<p>10) 1P</p>	<p>Kürze den Bruch $\frac{26}{65}$ so weit wie möglich.</p>	

<p>11) 2P</p>	<p>Welcher <u>gekürzte Bruch</u> liegt genau in der Mitte</p> <p>a) zwischen $\frac{3}{5}$ und $\frac{30}{100}$?</p> <p>b) zwischen $\frac{2}{3}$ und $\frac{1}{2}$?</p>	<p>a)</p> <hr/> <p>b)</p>
<p>12) 2P</p>	<p>Welche Dezimalzahlen sind mit einem Pfeil markiert?</p> 	<p>A:</p> <p>B:</p>
<p>13) 2P</p>	<p>Zähle in gleich grossen Schritten vorwärts und rückwärts. Notiere die Lösungen für C und D als <u>gekürzte Brüche</u>.</p> 	<p>C:</p> <p>D:</p>
<p>14) 2P</p>	<p>Schreibe den Bruch als Dezimalzahl.</p> <p>a) $\frac{12}{15}$ b) $\frac{63}{60}$</p>	<p>a)</p> <hr/> <p>b)</p>
<p>15) 2P</p>	<p>Berechne die durchschnittliche Geschwindigkeit eines jeden Tieres und schreibe diese in km/h auf.</p> <div style="display: flex; justify-content: space-around; align-items: flex-start;"> <div style="border: 1px solid black; padding: 5px; text-align: center;">  Delfin 9 km in 12 min </div> <div style="border: 1px solid black; padding: 5px; text-align: center;">  Strauss 1100 m in 1 min </div> </div>	<p>Delfin:</p> <p style="text-align: right;">km/h</p> <p>Strauss:</p> <p style="text-align: right;">km/h</p>
<p>16) 1P</p>	<p>Runde die Zahl 9.1746 auf Zehntel genau.</p>	
<p>17) 1P</p>	<p>Runde 4.328 t auf 10 kg genau (Angabe aber in t).</p>	<p>t</p>
<p>18) 1P</p>	<p>Welche der fünf folgenden Zahlen musst du streichen, damit der Durchschnitt der restlichen vier Zahlen 45 beträgt?</p> <p style="text-align: center;">40 53 30 37 60</p>	



<p>19) 4P</p>	<p>Gegeben sind die Zahlen 216, 6.199, 0.72, 75.7, 9.717, 1.7058, 1.058, 0.39, 923, 805, 3161, 29.96, 40, 93, 23.6 und 4.375.</p> <p>Welche der Zahlen erfüllt die Bedingung? Schreibe die gesuchte Zahl ins Feld.</p> <p>a) Die gesuchte Zahl hat 3-mal so viele Hunderter wie Einer.</p> <p>b) Die gesuchte Zahl hat beim Teilen durch 9 den Rest 2.</p> <p>c) Wenn du die Differenz der gesuchten Zahl und 3.096 bildest, gibt es 1.279.</p> <p>d) Der gesuchten Zahl fehlen $\frac{4}{100}$ bis zur nächsten ganzen Zahl.</p>																			
<p>20) 1P</p>	<p>Im abgebildeten Rechteck sind alle fünf Teilflächen gleich gross. Ausserdem sind die oberen beiden Rechtecke deckungsgleich und auch die unteren drei Rechtecke sind deckungsgleich.</p> <div style="text-align: center;">  </div> <p>Berechne den Flächeninhalt einer dieser Teilflächen.</p>																			
<p>21) 3P</p>	<p>Gleiche Zeichen bedeuten gleiche Ziffern, verschiedene Zeichen bedeuten verschiedene Ziffern.</p> <p>Ersetze die Zeichen so durch Ziffern, dass alle Gleichungen stimmen.</p> $\Delta \cdot \Delta = \square \Delta$ $\circ \cdot \circ = \star \circ$ $\square \Delta - \star \circ = 11$	<p>$\square =$</p> <p>$\Delta =$</p> <p>$\star =$</p> <p>$\circ =$</p>																		
<p>22) 3P</p>	<p>Kreuze alle drehsymmetrischen Logos an: (Das Kreuzchen direkt ins Kästchen machen!)</p> <table border="1" style="width: 100%; text-align: center;"> <tr> <td></td> <td></td> <td></td> <td></td> <td></td> <td></td> </tr> <tr> <td>Audi</td> <td>Mazda</td> <td>Mercedes</td> <td>Opel</td> <td>Mitsubishi</td> <td>VW</td> </tr> <tr> <td><input type="checkbox"/></td> <td><input type="checkbox"/></td> <td><input type="checkbox"/></td> <td><input type="checkbox"/></td> <td><input type="checkbox"/></td> <td><input type="checkbox"/></td> </tr> </table>							Audi	Mazda	Mercedes	Opel	Mitsubishi	VW	<input type="checkbox"/>	<input type="checkbox"/>	<input type="checkbox"/>	<input type="checkbox"/>	<input type="checkbox"/>	<input type="checkbox"/>	
																				
Audi	Mazda	Mercedes	Opel	Mitsubishi	VW															
<input type="checkbox"/>	<input type="checkbox"/>	<input type="checkbox"/>	<input type="checkbox"/>	<input type="checkbox"/>	<input type="checkbox"/>															